



kssovushka

ВЕСНА 2023

**Международная викторина для
младших школьников с ОВЗ
"Весёлые задачки"**

3 класс



1 ЧТО ИЗОБРАЖЕНО НА РИСУНКЕ?




- ① отрезок ③ прямая линия
② кривая линия ④ луч

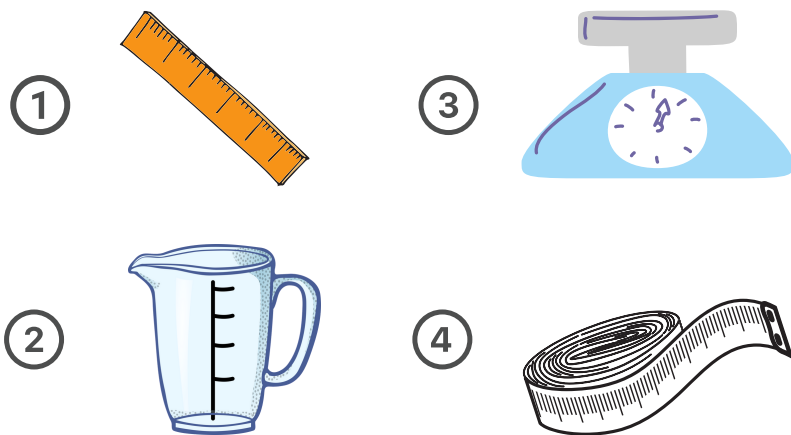
2 РЕШИТЕ ЗАДАЧУ.

Света и Лена помогли маме собирать яблоки в саду. Света собрала 10 яблок, а Лена - на 2 яблока меньше. Сколько всего яблок собрали девочки?

- ① 18 ③ 20
② 12 ④ 8



3 ЧЕМ МОЖНО ИЗМЕРИТЬ ВОДУ?



4 РЕШИТЕ ЗАДАЧУ ПО КРАТКОЙ ЗАПИСИ.

Ручка - 7 руб.

Линейка - на 2 руб. больше чем

Ластик - на 4 руб. больше чем

— ?

- ① 14 руб. ③ 13 руб.
② 9 руб. ④ 1 руб.



5 РЕШИТЕ ЗАДАЧУ.

Сегодня дед и баба покормили курочку Рябу в 9 ч утра, а завтра будут кормить её на 2 ч раньше. В какое время дед и баба будут кормить курочку Рябу завтра?

- ① 7 ч ③ 11 ч
② 10 ч ④ 6 ч



6 ВЫБЕРИТЕ ПРИМЕР С ОШИБКОЙ.


- ① $12 + 7 = 19$
② $17 - 6 = 11$
③ $20 - 2 = 17$
④ $20 - 14 = 6$



7 РЕШИТЕ ЗАДАЧУ.

На первом столе 10 стаканов с компотом. На втором столе на 3 стакана меньше, чем на первом. На третьем столе на 5 стаканов больше, чем на втором столе. Сколько стаканов с компотом на третьем столе?

- ① 12 ③ 7
② 18 ④ 19



8 ЧТО ЛИШНЕЕ?

- ① 12 см
② 6 кг
③ 15 ч
④ 18 книг



9 РЕШИТЕ ЗАДАЧУ.


Саша помогал маме на даче собирать урожай картофеля. Он собрал 16 кг и разложил его в 2 ведра поровну. Сколько кг картофеля в каждом ведре?

- ① 16 кг ③ 8 кг
② 9 кг ④ 2 кг



10 КАК НАЗЫВАЕТСЯ ДАННАЯ ФИГУРА?

- ① треугольник
② четырёхугольник
③ пятиугольник
④ шестиугольник

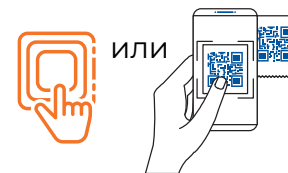


УРА! ВЫ СПРАВИЛИСЬ СО ВСЕМИ ЗАДАНИЯМИ!

Все участники получают наградные документы,
кураторы - благодарственные письма.



ОФОРМИТЬ
ЗАКАЗ



ИЛИ



+7-906-602-22-10
VIBER / WHATSAPP / TELEGRAM
EMAIL: MAIL@KSSOVUSHKA.RU
8-800-100-20-64 БЕСПЛАТНЫЙ ЗВОНОК ПО РОССИИ



КОВУШКА

